

GUIA DE APRENDIZAJE N°4



INSTITUCION EDUCATIVA NACIONAL LOPERENA SEDE SANTO DOMINGO

AREA: CIENCIAS SOCIALES. ASIGNATURA: GEOGRAFIA

PERIODO N°1 DEL 27 DE ENERO AL 3 DE ABRIL. FECHA: D__M__ AÑO: ____

SEMANA N° 8 DEL 16 AL 20 DE MARZO

ESTUDIANTE: _____ GRADO: 5°0__

DOCENTES:

ENA LUISA GARCIA FUENTES. (enaluisagarcia@hotmail.com)

NERY AVENDAÑO LOZANO (nerya03@hotmail.com)

CLIMENES R. CERCHAR F. (verocerf@hotmail.com)

TEMAS:

- ✓ LA RED GEOGRÁFICA
- ✓ LOS MERIDIANOS Y LOS PARALELOS

TIEMPO PREVISTO: 100 minutos semanales

INTRODUCCIÓN

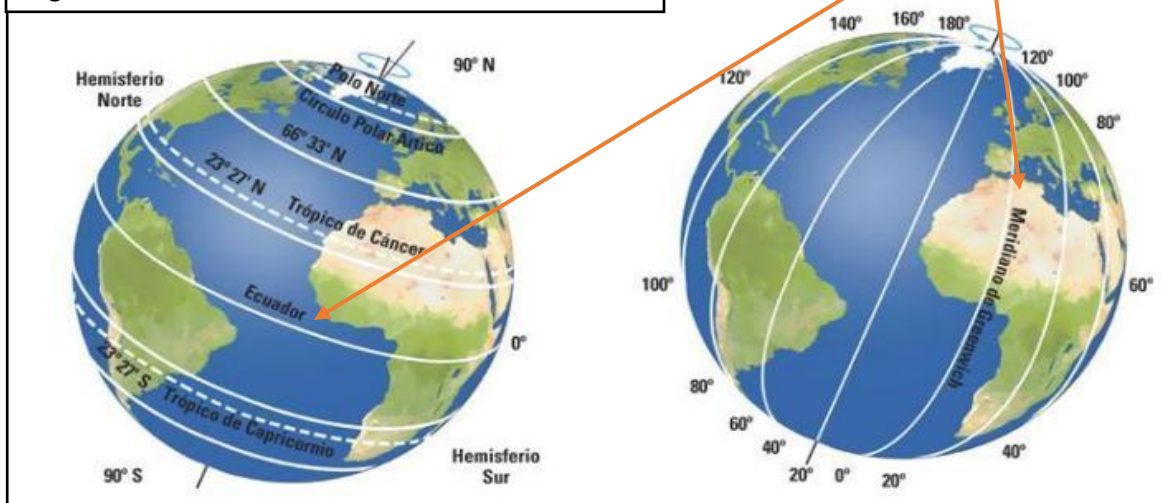
Lee con atención el siguiente texto:

Hemisferio es una palabra que proviene del *griego* *hemi* (mitad) y *sphaera* (esfera) y significa la mitad de la esfera.

Aunque nuestro planeta no es completamente redondo (por estar achatado en los polos) debemos utilizar el término para poder ubicar diversos lugares de manera correcta.



Los paralelos y meridianos dividen la tierra en dos partes iguales llamadas hemisferios.



Analiza y responde en tu cuaderno

- ✓ ¿Qué significa hemisferio? _____
- ✓ ¿Qué son los paralelos? _____
- ✓ ¿Qué son los meridianos? _____

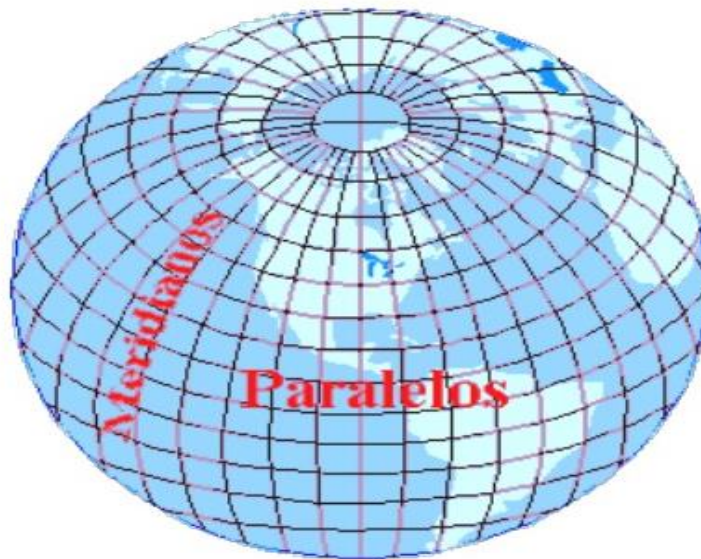
Palabras claves:

Hemisferio, red geográfica, Ecuador, Greenwich.

Recuerda que debes escribir cada palabra en tu cuaderno y buscar su significado.

IDEAS BÁSICAS

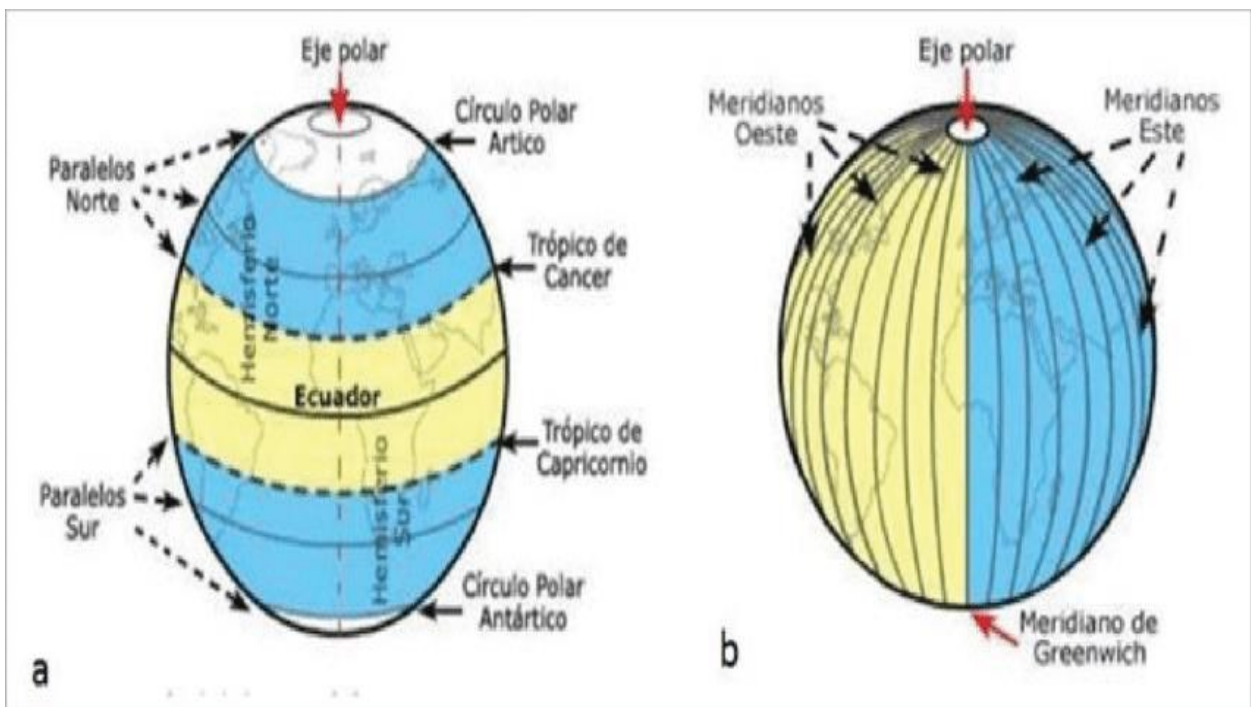
LA RED GEOGRÁFICA



La red geográfica es un sistema de orientación compuesto por unas líneas imaginarias que cubren la superficie de la Tierra. Estas líneas imaginarias se llaman paralelos y meridianos, estas líneas se cruzan formando una red con la que es posible encontrar cualquier punto sobre la superficie del planeta.

Los paralelos son líneas horizontales, trazadas de Oriente a Occidente, que son perpendiculares al eje terrestre. El paralelo más importante es la línea del **Ecuador** que divide la Tierra en dos hemisferios: el norte y el sur. Otros paralelos importantes son: **el trópico de Cáncer, el trópico de Capricornio, el círculo polar ártico y el círculo polar antártico.**

Los meridianos son líneas verticales trazadas desde el Polo norte al Polo Sur. El Meridiano más importante es **Greenwich** que divide la Tierra en dos hemisferios: **el oriental y el occidental.**

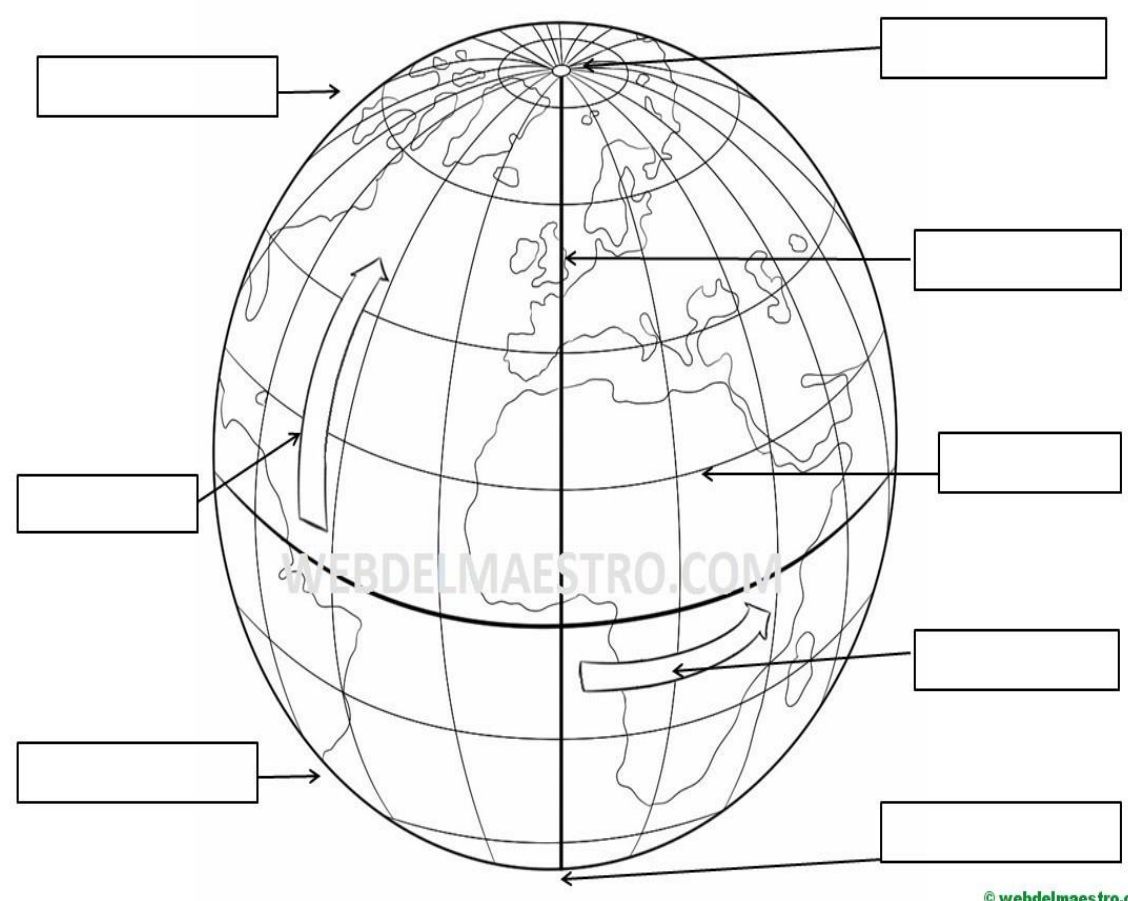


ACTIVIDADES

Para realizar un correcto control de lectura, te invitamos a leer comprensivamente las ideas básicas, transcribirlas al cuaderno y luego desarrollar las actividades individualmente en la guía.

1. **Colorea y completa con:** meridiano de Greenwich, Ecuador, Hemisferio Norte, Hemisferio Sur, Polo Norte, Polo Sur, latitud, longitud.

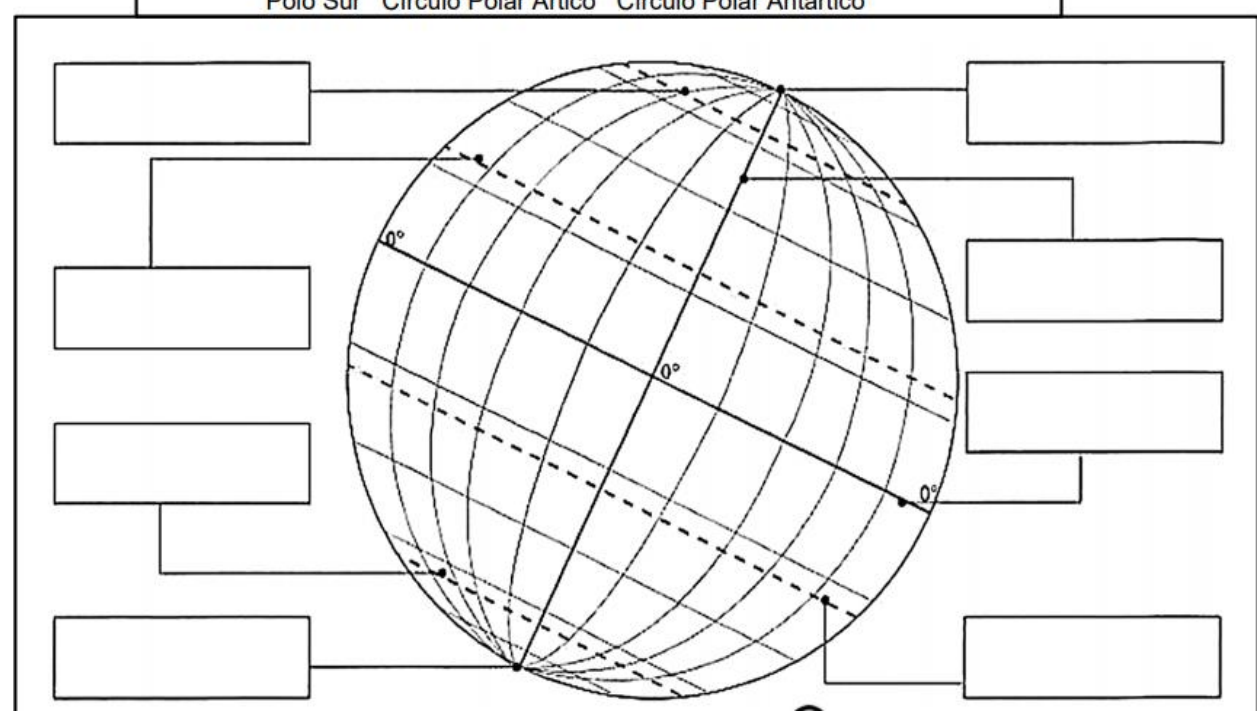
NOMBRE:



© webdelmaestro.com

2. Ubica el globo terráqueo los siguientes nombres:

Eje terrestre Trópico de Cáncer Trópico de Capricornio Ecuador Polo Norte
Polo Sur Círculo Polar Ártico Círculo Polar Antártico



3.


El **globo terráqueo** es una esfera que reproduce la Tierra.

El **ecuador** es una línea imaginaria que divide la Tierra en dos mitades: el **hemisferio norte** y el **hemisferio sur**.

Los **polos** son los puntos alrededor de los que gira la Tierra. Son dos: el **polo norte** y el **polo sur**.

El **eje terrestre** es una línea imaginaria que une el polo norte y el polo sur. Está un poco inclinada.

Colorea el globo terrestre siguiendo las indicaciones:



CRITERIOS DE EVALUACIÓN:

El estudiante debe desarrollar en forma individual la guía siguiendo las instrucciones dadas.

Al regresar a clases el estudiante debe presentar:

- ✓ El cuaderno de geografía al día con la guía N° 4
- ✓ La guía N° 4 desarrollada completamente para calificarla
- ✓ La sustentación oral al profesor de la guía N° 4 para evaluarla.



REFERENCIAS BIBLIOGRÁFICAS

Sociales 4°, volumen 1. Editorial Santillana

<https://webdelmaestro.com/la-representacion-de-la-tierra/>

www.colegioloperena.edu.co/quías

